


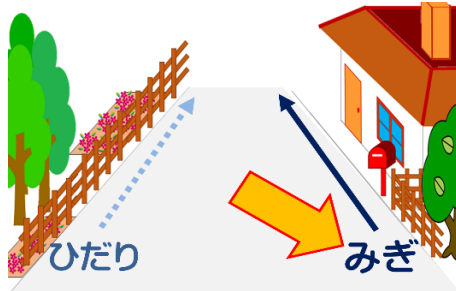
ねん 年	くみ 組	なまえ 名前
---------	---------	-----------

れいわ ねん がつごう
令和5年1月号

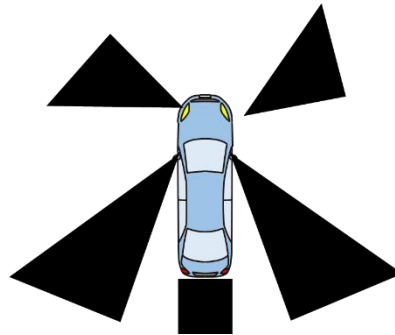


こうつうあんぜん
交通安全テスト
ねんせいよう
(3・4年生用)

- ① ほどうなど どうろ ほこうしゃ どうろ みぎ ある
歩道等がない道路では、歩行者は道路の右がわを歩く。
ただ 正しければ ○ を、間ちがっていれば × を書きましょう。



- ② した くろいろ のはんいは、くるま うんてん の運転せきから見えないはんいをあらわ
しているが、このはんいのことを何というのでしょうか？
わくの中に答えを書きましょう。



答え

- ③ くるま ま が曲がる時、まえ のタイヤと後ろのタイヤが通るところに線を引
いています。(前～ ——、後ろ～ ----)
写真の線を見ながら事ここにあわないために、気をつけなければなら
ないことを書いてみましょう。



答え